

ITABORAÍ

História e Geografia

60 QUESTÕES COMENTADAS

ÍNDICE

Exercícios comentados

páginas 01 a 25

Exercícios sem comentários

páginas 26 a 40



**EXPRESSO
CONCURSO**

NOSSOS CONTATOS



(21) 987196980

www.expressoconcurso.com.br

@EXPRESSOCONCURSO

1. Em qual região do Rio de Janeiro está situada a cidade de Itaboraí?

- a) Serra
- b) Costeira
- c) Metropolitana
- d) Baixada

COMENTÁRIO: Gabarito letra C

Itaboraí fica na região metropolitana do Rio de Janeiro, em área de baixada litorânea, às margens da Baía de Guanabara a 45 km de distância da capital.

2. Dentre os municípios indicados abaixo assinale aquele que não faz divisa com Itaboraí:

- a) Niterói
- b) São Gonçalo
- c) Guapimirim
- d) Cachoeira de Macacu

COMENTÁRIO: Gabarito letra A

O município de Itaboraí faz divisa com Guapimirim, São Gonçalo, Cachoeiras de Macacu, Tanguá e Maricá.

3. Quanto a economia em Itaboraí, podemos citar dentre as principais atividades econômicas:

- a) manufatura cerâmica, fruticultura, apicultura, pecuária extensiva, comércio e serviços.
- b) Indústria têxtil, fruticultura, apicultura, pecuária extensiva, comércio e serviços
- c) manufatura cerâmica, metalurgia, indústria têxtil, pecuária extensiva, comércio e serviços
- d) agricultura, fruticultura, apicultura, pecuária extensiva, comércio e serviços

COMENTÁRIO: Gabarito letra A

A economia do município gira em torno da manufatura cerâmica (decorativa e utilitária), fruticultura, apicultura, pecuária extensiva, comércio e serviços.

4. Itaboraí apresenta um relevo variado. Suas maiores altitudes são encontradas:

- a) nas serras do Barbosão, da Canastra e de Cassorotiba do Sul
- b) nas serras do Barbosão, do Lagarto e da Mantiqueira
- c) nas serras da Mantiqueira, do Lagarto e de Cassorotiba do Sul

História e Geografia
Itaboraí

60

Questões

sem ***Comentários***

EC

EXPRESSO CONCURSO

1. Em qual região do Rio de Janeiro está situada a cidade de Itaboraí?

- a) Serrana
- b) Costeira
- c) Metropolitana
- d) Baixada

2. Dentre os municípios indicados abaixo assinale aquele que não faz divisa com Itaboraí:

- a) Niterói
- b) São Gonçalo
- c) Guapimirim
- d) Cachoeira de Macacu

3. Quanto a economia em Itaboraí, podemos citar dentre as principais atividades econômicas:

- a) manufatura cerâmica, fruticultura, apicultura, pecuária extensiva, comércio e serviços.
- b) Indústria têxtil, fruticultura, apicultura, pecuária extensiva, comércio e serviços
- c) manufatura cerâmica, metalurgia, indústria têxtil, pecuária extensiva, comércio e serviços
- d) agricultura, fruticultura, apicultura, pecuária extensiva, comércio e serviços





4. Itaboraí apresenta um relevo variado. Suas maiores altitudes são encontradas:

- a) nas serras do Barbosão, da Canastra e de Cassorotiba do Sul
- b) nas serras do Barbosão, do Lagarto e da Mantiqueira
- c) nas serras da Mantiqueira, do Lagarto e de Cassorotiba do Sul
- d) nas serras do Barbosão, do Lagarto e de Cassorotiba do Sul

5. Parte de seu território é voltada para a Baía de Guanabara, compondo, com os municípios de Magé e Guapimirim, a _____, uma Unidade de Conservação de uso sustentável voltada para a preservação e conservação de remanescentes dos manguezais. Completa corretamente a lacuna:

- a) ABA de Guapimirim
- b) APA de Guapimirim
- c) CAP de Magé
- d) ADA de Magé

59. Qual era a taxa de escolarização de crianças entre 6 e 14 anos em Itaboraí em 2010?

- A) 
- B) 
- C) 
- D) 

60. Qual foi o IDHM de Itaboraí em 2010?

- A) 
- B) 
- C) 
- D) 



GABARITO

EXPRESSO
CONCURSO

01	02	03	04	05	06	07	08	09	10									
